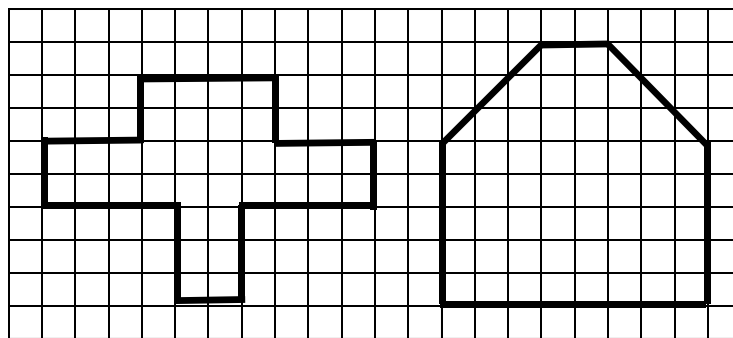
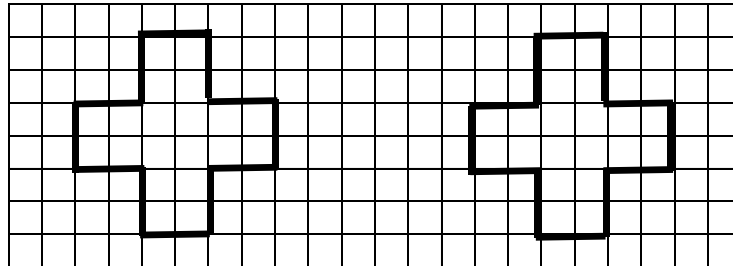


1.2 In gleich große Stücke teilen


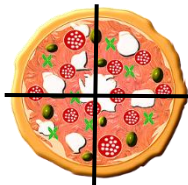
Aufgabe 1:

Teile die Figuren auf unterschiedliche Weise in zwei Hälften.
Male eine Hälfte farbig an.



Aufgabe 2:

In wie viele Teile wurde die Pizza geteilt?
Verbinde.
Achtung! Ein Begriff bleibt übrig.



Halbe


Sechstel

Achtel

Drittel



Siebtel

Viertel



Aufgabe 3:

- a) In wie viele Teile wurde die Schokolade geteilt?



- b) Teile die Schokolade in 5 Teile.



- c) Teile die Schokolade in 4 Teile.



Aufgabe 4:

Fülle die Tabelle aus.

Die Wortkarten unter der Tabelle helfen dir.

Achtung! Drei Begriffe bleiben übrig.

Anzahl der Teile	Name der Teile
Zwei Teile	
	Drittel
Vier Teile	
Fünf Teile	
	Zehntel

Zehn Teile

Neuntel

Fünftel

Halbe

Viertel

Drei Teile

Siebtel

Acht Teile