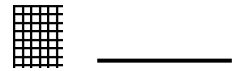
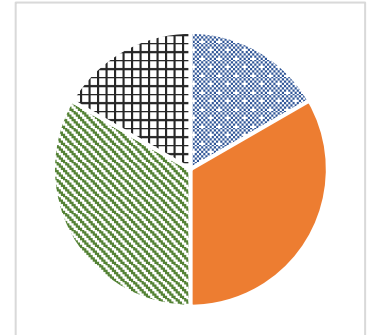
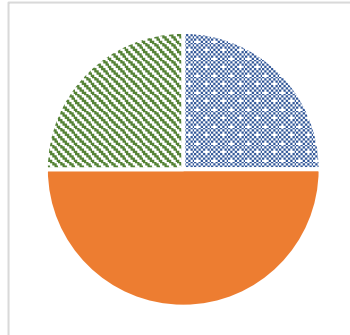
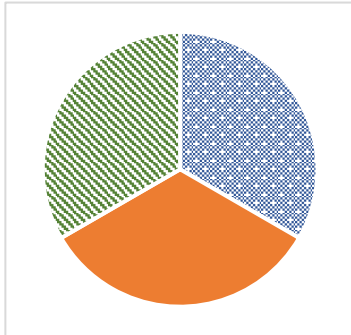


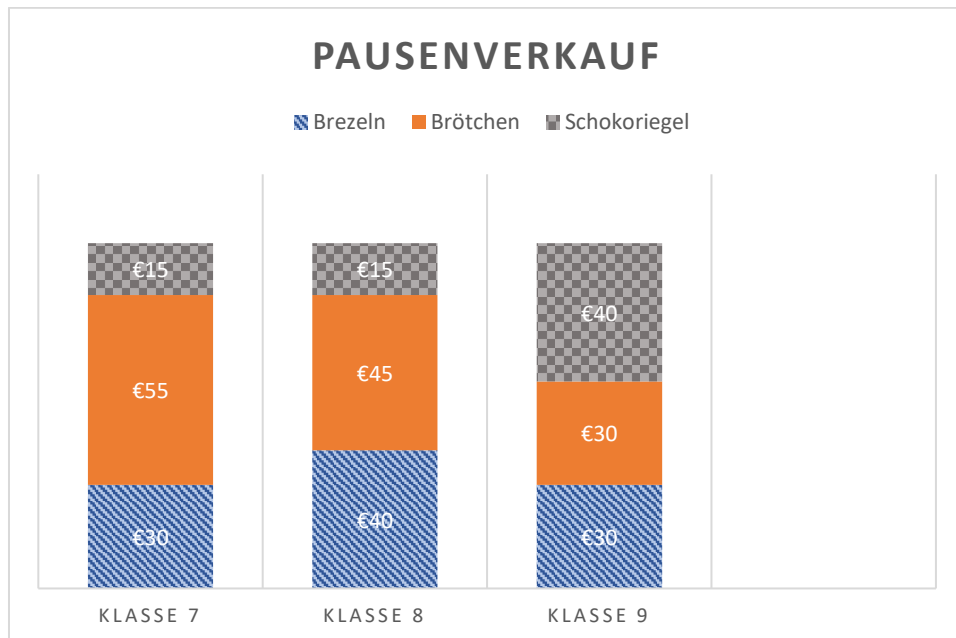
Aufgabe 1

Welchen Anteil haben die Farben im Diagramm? Trage ein.



Aufgabe 2

In dem Diagramm siehst du die Einnahmen der Klassen 7, 8 und 9 aus dem Pausenverkauf. Beantworte die Fragen.



- Wie viel € verdient Klasse 8 mit Brezeln? _____
- Wie viel € verdient Klasse 7 mit Brötchen? _____
- Welche Klasse € verdient am meisten an den Schokoriegeln? _____
- Welche Klassen verdienen gleichviel € mit den Brezeln? _____
- Welche Klasse verdient am meisten mit den Brötchen? _____
- Welche Klasse verdient gleichviel mit Brezeln und Brötchen? _____

5.1 Aus Diagrammen Zahlenwerte/ Bruchzahlen entnehmen

Aufgabe 3

Verbinde die Brüche mit dem richtigen Anteil in dem Diagramm.

Tipp: Alle Brüche finden einen Platz.

