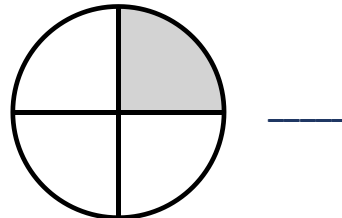
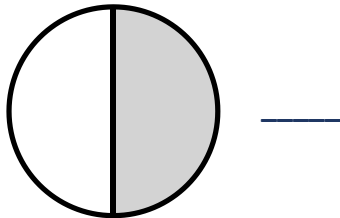


1.3 Brüche lesen und Schreiben

Aufgabe 1:

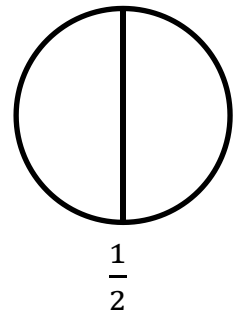
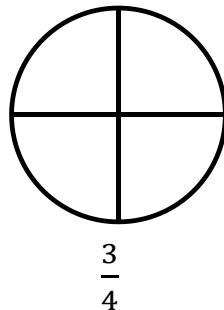
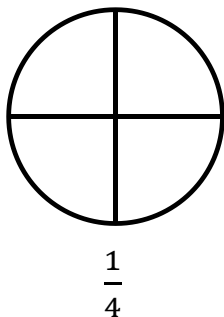
Welcher Bruch gehört dazu?

Setze ein: $\frac{1}{3}, \frac{1}{4}, \frac{1}{2}, \frac{1}{6}$



Aufgabe 2:

Male den passenden Anteil aus.



Aufgabe 3:

Wie viel Pizza ist noch da?

Setze ein: $\frac{3}{4}, \frac{1}{4}, \frac{1}{2}$

